



理想树



科学台阶

初中 必刷题

地理

七年级下册 JJ



心有理想 不负众望



2024年3月 上市

2024年3月 上市

2024年5月 上市

2024年8月 上市

2024年8月 上市

2024年8月 上市

2024年8月 上市

2025年5月 上市

- **初中必刷题**
刷同步 K重点
- **初中必刷题**
手握必刷题 提分看得见

- **中考必刷题**
八刷体系 刷有所成
- **中考必刷题 解题有法**
专项突破 进阶训练

- **中考必刷题 真题分类卷**
练透真题 把握趋势
- **中考必刷题 模拟42套**
地方真题卷+模拟卷+原创卷汇编

- **初中资源库**
应考全能型工具书 你的掌上图书馆
- **中考必刷题 押题卷**
名师集结 网式押题

课件说明

- 软件使用 建议老师使用WPS软件打开
- 编辑修改 点击文本框即可对全文进行编辑、修改
- 便捷操作 页面之间有超链接相互跳转

主题五 探究大洲地理特征



1

归纳自然环境 特征

课时1 范围与地形 河流与湖泊

目录

● 刷基础

● 刷提升

鼠标轻轻一点，内容立即呈现

刷基础

知识点1 范围与地形

新考法

【2025山西阳泉期末】2025年第九届亚洲冬季运动会在中国哈尔滨市举办，本届亚冬会的口号是“冰雪同梦，亚洲同心”。亚洲是我们生活的大洲，完成1~2题。

1

2

3

4

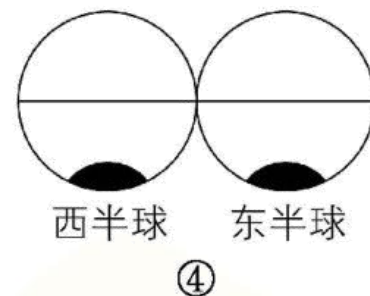
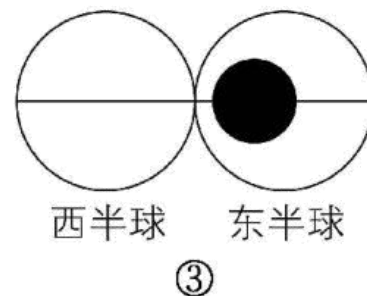
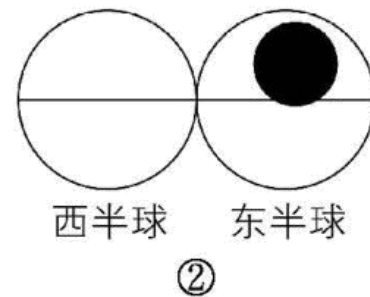
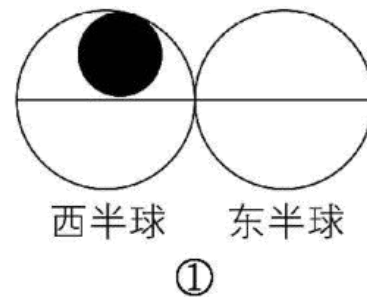
5

6

1. 若图中黑色区域代表亚洲，则能大致表示亚洲地理位置的是(B)

- A. ① B. ② C. ③ D. ④

【解析】结合所学知识可知，亚洲主要位于东半球和北半球，B正确。故选B。



2. 关于亚洲地理特征的叙述，正确的是（ D ）

- ①亚洲西南部隔苏伊士运河与非洲相邻
- ②亚洲西北部隔巴拿马运河与美洲相邻
- ③地形以高原、山地为主，地势西高东低
- ④跨纬度最广、东西距离最长

A. ①②

B. ②③

C. ③④

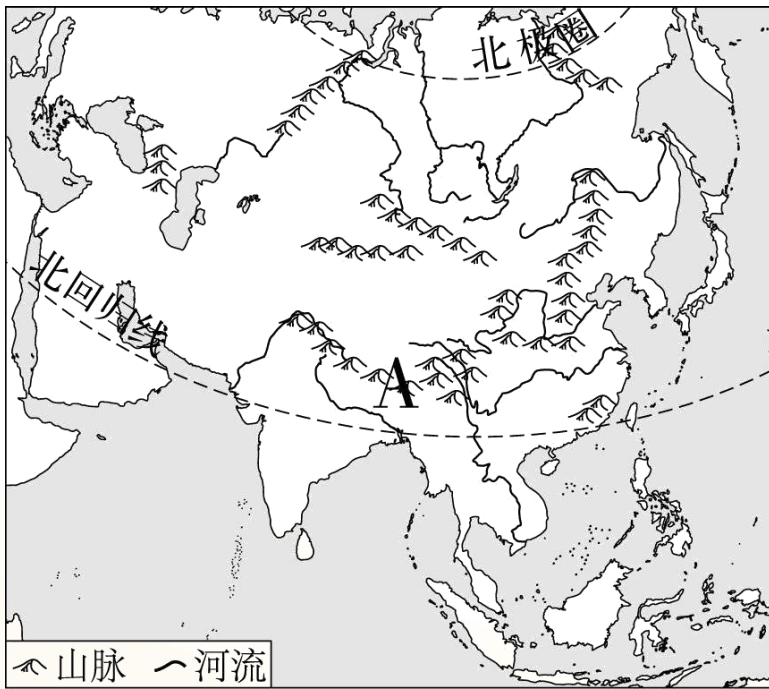
D. ①④

【解析】结合所学知识可知，亚洲西南部隔苏伊士运河与非洲相邻，①正确；亚洲面积辽阔，是世界上跨纬度最广、东西距离最长的大洲，④正确；亚洲东北部隔白令海峡与美洲相邻，②错误；亚洲地形以高原、山地为主，地势特征为中部高、四周低，③错误。故选D。

归纳总结

亚洲是世界上面积最大的大洲，东临太平洋，北临北冰洋，南临印度洋，西与欧洲相连，西南与非洲为邻，东北隔白令海峡与北美洲相望。

【2025山西太原期中】亚洲地域辽阔，山岳巍峨，这里有“世界屋脊”雄踞亚洲中部。下图示意亚洲地形和A地自然景观，据此完成3~4题。



1

2

3

4

5

6

3. 图中A地从山麓到山顶景观差异明显，所处的地形区是(B)

A. 东北平原 B. 青藏高原 C. 乌拉尔山脉 D. 蒙古高原

【解析】读图可知，A地是喜马拉雅山脉，是世界最高大的山脉，从山麓到山顶景观差异明显，所处的地形区是青藏高原。故选B。

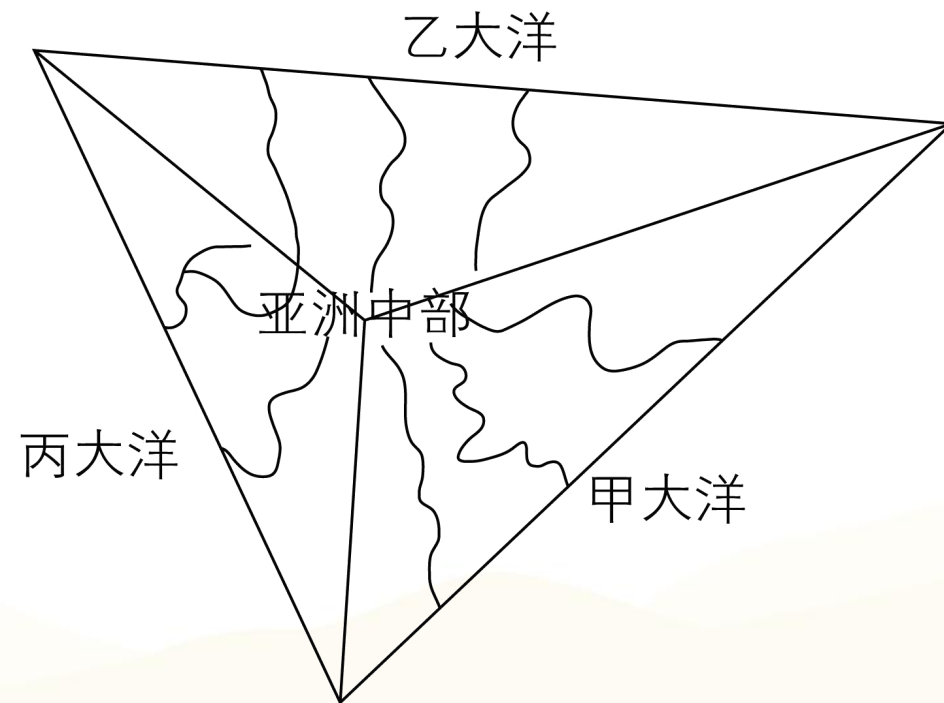
4. 亚洲的地势特征是(C)

A. 南北高，中部低 B. 中部低，四周高 C. 中部高，四周低 D. 东南高，西北低

【解析】亚洲的中部是高原、山地，平原分布在四周，故亚洲的地势特征是中部高，四周低，故选C。

知识点2 河流与湖泊

读下图，完成5~6题。



1

2

3

4

5

6

5. 图中甲大洋是(C)

A. 北冰洋

B. 大西洋

C. 太平洋

D. 印度洋

【解析】读图并结合所学可知，亚洲地势中部高、四周低，河流呈放射状流向周边海洋，甲是亚洲东部的太平洋，乙是北部的北冰洋，丙是南部的印度洋，C正确。故选C。

6. 关于亚洲河流流向描述正确的是(A)

A. 河流呈放射状流向周边海洋

B. 河流自北向南流入海洋

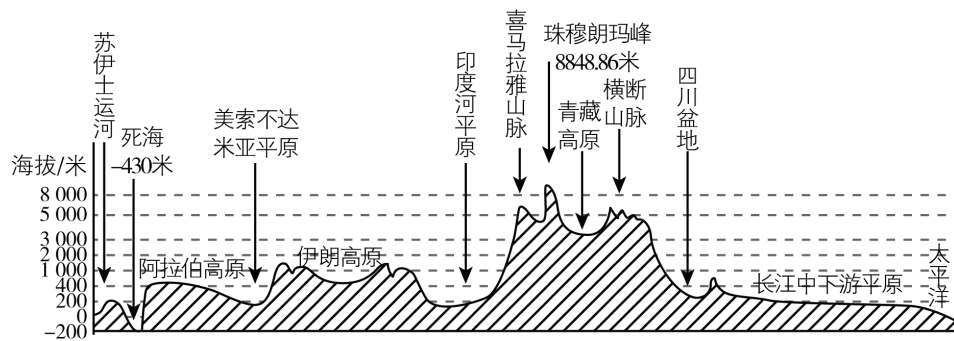
C. 河流自四周向中心流动

D. 河流自西向东流入海洋

【解析】读图可知，亚洲大河呈放射状流向周边海洋，说明亚洲地势中部高，四周低。A正确。故选A。

刷提升

[中] 读亚洲沿北纬30°纬线的地形剖面图，完成1~2题。



1. 该剖面图的地势特征表现为(C)

A. 中部低，南北高 B. 西部高，东部低 C. 中部高，东西低 D. 中部低，四周高

【解析】读图可知，亚洲大陆地势特征是低→高→低，即中部高，东西低，C正确。故选C。

1

2

3

4

5

6

2. 关于图中地理事物，叙述错误的是(D)

- A. 苏伊士运河是亚、非两大洲分界线 B. 死海是世界陆地最低点
C. 喜马拉雅山脉是世界最高大的山脉 D. 青藏高原是世界最大的高原

【解析】苏伊士运河是亚、非两大洲分界线，沟通了红海和地中海，死海是世界陆地最低点，喜马拉雅山脉是世界上最高的山脉，A、B、C正确。青藏高原是世界上最高的高原，南美洲的巴西高原是世界上面积最大的高原，D错误。故选D。

归纳总结

亚洲地形复杂多样，以高原、山地为主，地势起伏大，高低悬殊，亚洲的地势特点是中部高、四周低，亚洲是世界上除南极洲以外平均海拔最高的大洲；亚洲大河多发源于中部的高原山地，顺地势呈放射状向四周奔流入海。

【2025山西忻州期末，中】“我们亚洲，山是高昂的头；我们亚洲，河像热血流；我们亚洲，树都根连根；我们亚洲，云也手握手。莽原缠玉带，田野织彩绸……”歌曲《亚洲雄风》唱出了亚洲的自然和人文风貌。下图示意亚洲主要山脉和河流分布。据此完成3~5题。



3. 图中阴影部分表示亚洲众多江河的发源地，该地区是指(B)

- A. 蒙古高原 B. 青藏高原 C. 德干高原 D. 帕米尔高原

【解析】读图并结合所学知识可知，图中阴影部分为青藏高原，B正确。故选B。

4. 受地势影响，亚洲河流多呈（ C ）

A. 条带状

B. 汇合状

C. 放射状

D. 团块状

【解析】根据所学知识可知，亚洲地势中部高、四周低，受地势影响，亚洲河流多发源于中部，呈放射状流向周边的海洋，C正确。故选C。

5. 河流为人类提供水源和航运条件的同时，也会带来的主要灾害是(D)

A. 火山

B. 烈风

C. 地震

D. 洪水

【解析】火山和地震是地球内部能量释放所产生的现象，与河流无关，A、C错误；烈风是大气存在气压差所产生的自然现象，与河流无关，B错误；洪水是因为河流、湖泊等水体上涨超过一定水位所产生的现象，与河流有关，D正确。故选D。

刷素养 走向重高

6. 核心素养 区域认知 [难] 魅力亚洲，多彩生活。区域学习重在方法，让我们运用学习大洲的方法来认识我们生活的亚洲。图1为亚洲地形结构统计图，图2为亚洲地形分布图。阅读图文资料，完成下列探究活动。

探究一 定位置（看海陆，找特殊纬线）

（1）亚洲地域辽阔，位于亚欧大陆东部，三面濒临海洋，其中南临印度洋。赤道穿过亚洲东南部，北极圈穿过亚洲北部。

【解析】亚洲南临印度洋，赤道穿过亚洲东南部，北极圈穿过亚洲北部。

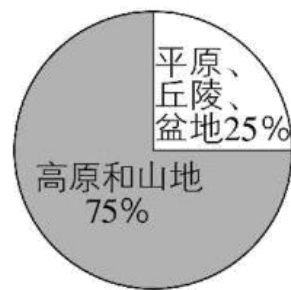


图 1

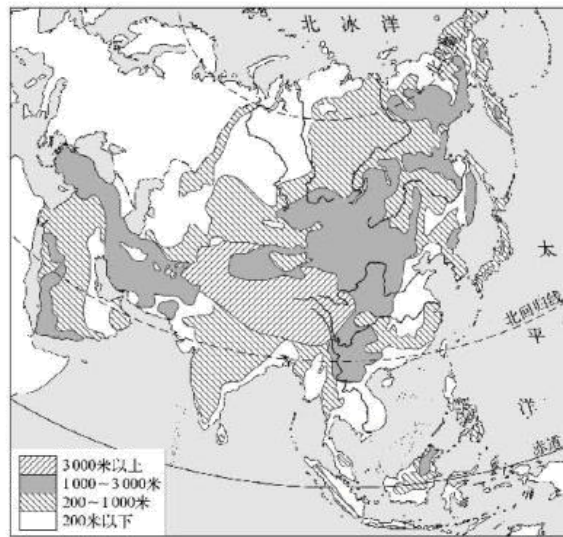


图 2

探究二 判地势

(2) 据图1可知亚洲地形类型以 高原和山地 为主。据图2，分析亚洲的地势特点为 中部高、四周低。

【解析】 由图1可知，亚洲的地形类型以高原和山地为主；由图2可知，亚洲的地势特点是中部高、四周低。

探究三 识水系

(3) 亚洲河流的流向有 呈放射状流向周边海洋 的特点。关于亚洲水系特征说法，正确的是 C。

- A. 缺少内流河，内流河地域面积狭小
- B. 所有河流都流入海洋
- C. 地域广阔为形成众多的大河提供有利条件
- D. 西部河流数量多

【解析】 亚洲河流的流向有从中间呈放射状流向周边海洋的特点。亚洲内流河多，流域面积广阔；大部分河流注入海洋；地域广阔为形成众多的大河提供有利条件；西部河流较稀少，故选C。

探究四 看人文

(4) 图3景观表现了亚洲不同地区居民生活的差异。请从甲、乙景观中任选其一，描述其服饰或民居等生活方面的特点。



甲



乙

图3

【答案】图中甲反映了亚洲北部的居民生活，人们住木屋；乙反映了亚洲东南部的居民生活，房屋的屋顶坡度大。（任答一点，合理即可）

【解析】图中甲反映了亚洲北部的居民生活，这里气候寒冷，人们身着毛皮服装，住木屋；交通工具是狗拉雪橇等；乙反映了亚洲东南部的居民生活，这里气候湿热，人们身着凉爽的服饰，房屋墙体薄、屋顶坡度大等。

【解析】素养解读

本题通过对亚洲位置、地形地势、河流和人文地理特征的分析，体现地理学科中区域认知的核心素养。

1

2

3

4

5

6

万元奖金

寻原创好题、好卷

► 为了搭建中学教师教学经验交流、教学风采展示的平台，同时提升图书产品的品质，现面向全国各学科老师和教研员征集修订意见和原创试题。

- 参与原创试卷编写，奖金最高可达**4000元**/套
- 参与书稿修订或审读，奖金最高可达**10000元**/本
- 参与原创书稿编写，奖金最高可达**20000元**/本



特约
顾问

教研员可以选择报名成为我们的特约顾问，
薪资酬劳面议。

📅 征稿时间：即日起长期有效

👤 征集对象：各中学、各学科教师

📞 活动咨询：众望教育张老师 15011071935 (微信同电话)

► 这些都在等你



最新的教学资源



丰厚的稿件报酬



暖心的福利礼品



线下的教学研讨